



INVESTICE DO ROZVOJE VZDĚLÁVÁNÍ

Tento projekt je spolufinancován Evropským sociálním fondem a státním rozpočtem České republiky.

Test - pravidla silničního provozu

Metodický list

test nebo samostatná práce k zadanému tématu

Obecné informace k řadě pracovních listů Člověk a zdraví - Rizika ohrožující zdraví a jejich prevence.

Výukové materiály jsou určeny převážně pro práci na interaktivní tabuli nebo prezentaci prostřednictvím projektoru. Část materiálů obsahuje testy nebo úlohy určené k množení a samostatnému doplnění.



Každý výukový materiál obsahuje v úvodu klíčové otázky, které seznámí žáky s účelem práce a mohou být využity jako poklad pro testování znalostí a dovedností žáků.



Části označené touto ikonou jsou určeny ke shrnutí poznatků a lze je využít jako zápis do sešitů nebo k ucelení opakované látky.

Výukové materiály navazují na řadu učebnic Občanská výchova 6-9 s blokem Rodinná výchova: učebnice pro základní školy a víceletá gymnázia nakladatelství Fraus.

Každý úkol je srozumitelně popsán. Řešení, pokud jsou nutná, jsou uvedena v závěru výukového materiálu jako příloha.



INVESTICE DO ROZVOJE VZDĚLÁVÁNÍ

Tento projekt je spolufinancován Evropským sociálním fondem a státním rozpočtem České republiky.

PRAVIDLA TESTU

Nadepiš papír formátu A5 následujícím způsobem.

Jméno a příjmení:

Datum:

Třída:

1

A
B
C
D

2

A
B

3

4

5

6

7

8

HODNOCENÍ TESTU

14-12 = 1

11-9 = 2

8-6 = 3

5-3 = 4

2-0 = 5

Za každou správně zodpovězenou otázku dostaneš 1 bod. Za špatné odpovědi se body neodečítají.

Testy bez podpisu jsou hodnoceny automaticky nedostatečně.

Pokud je v otázce možnost výběru, napiš pouze správné písmeno.

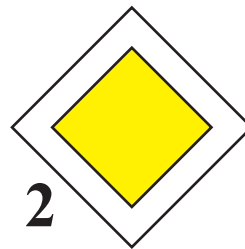
U ostatních otázek odpovídej svými slovy, spisovně, nebo postupuj podle pokynů.

INVESTICE DO ROZVOJE VZDĚLÁVÁNÍ

Tento projekt je spolufinancován Evropským sociálním fondem a státním rozpočtem České republiky.

1. Mezi **dopravními značkami** vyber k názvům jejich **správné obrázky**. Zapiš pouze číslo obrázku.

- A hlavní pozemní komunikace
- B zákaz vjezdu všech vozidel (z tohoto směru)
- C zákaz vjezdu cyklistů
- D přikázaný směr jízdy



2. Mezi obrázky dopravních značek **vyber** ty, které říkají... (zapiš pouze číslo)

A ... že musíš na křižovatce vždy zastavit, i když nic nejede. Zároveň tato značka říká, že jsi na vedlejší silnici a musíš dát přednost vozidlům i cyklistům na hlavní silnici.

B ...že na tuhle cestu nesmějí žádné automobily ani motorky, smí se po ní chodit jen pěšky nebo jezdit na kole





INVESTICE DO ROZVOJE VZDĚLÁVÁNÍ

Tento projekt je spolufinancován Evropským sociálním fondem a státním rozpočtem České republiky.

3. Pokud jedeš na **kolečkových bruslích po ulici** mimo vyhrazenou dráhu pro bruslaře, platí že ...

- A ...musíš jet po pravé straně silnice bez ohledu na to, jestli je v ulici chodník nebo ne
- B ...musíš jet po levé straně silnice, nesmíš na chodník (pokud v ulici je)
- C ...musíš jet po chodníku (pokud v ulici je) nebo po levé straně silnice, pokud v ulici chodník není

4. Součástí **povinné výbavy cyklisty** je... (vyber 3 možnosti)

- A ...ochranná helma do věku 15 let
- B ...chrániče kolen a loktů do věku 10 let
- C ...zvonek
- D ...náhradní duše
- E ...lekárnička
- F ...odrazky na pedálech kola

5. Smíš vozit po silnici na **rámu kola nebo na nosiči stejně starého kamaráda** nebo kamarádku?

- A NE, v žádném případě
- B NE, pokud nemám na nosiči připevněnou k tomu určenou sedačku
- C ANO, ale pouze na nosiči, kamarád/ka mi nesmí překážet ve výhledu nebo ovládání kola

6. Vyber tvrzení, které je **nejpravdivější**.

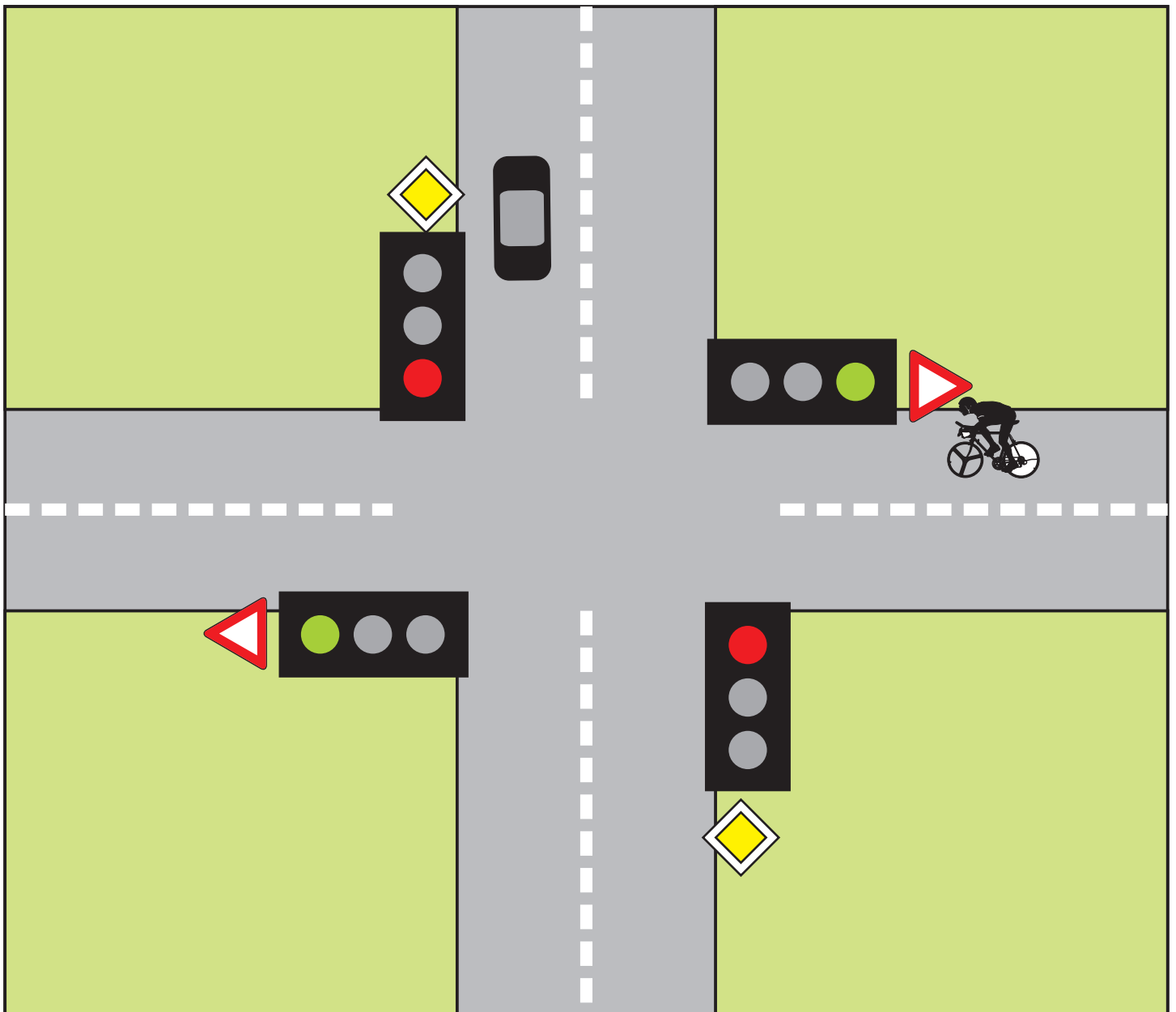
- A Chodec, pokud musí jít po silnici, musí jít po levé straně silnice a měl by být dobře viditelný pro projíždějící vozidla například díky výraznému oblečení s reflexními proužky.
- B Cyklista do věku 15 let může k jízdě na kole používat pouze chodník nebo stezky pro cyklisty. Do věku 10 let musí mít na kole připevněná pomocná postranní kolečka



INVESTICE DO ROZVOJE VZDĚLÁVÁNÍ

Tento projekt je spolufinancován Evropským sociálním fondem a státním rozpočtem České republiky.

7. Zorientuj se v dopravní situaci a napiš, **kdo pojede první**

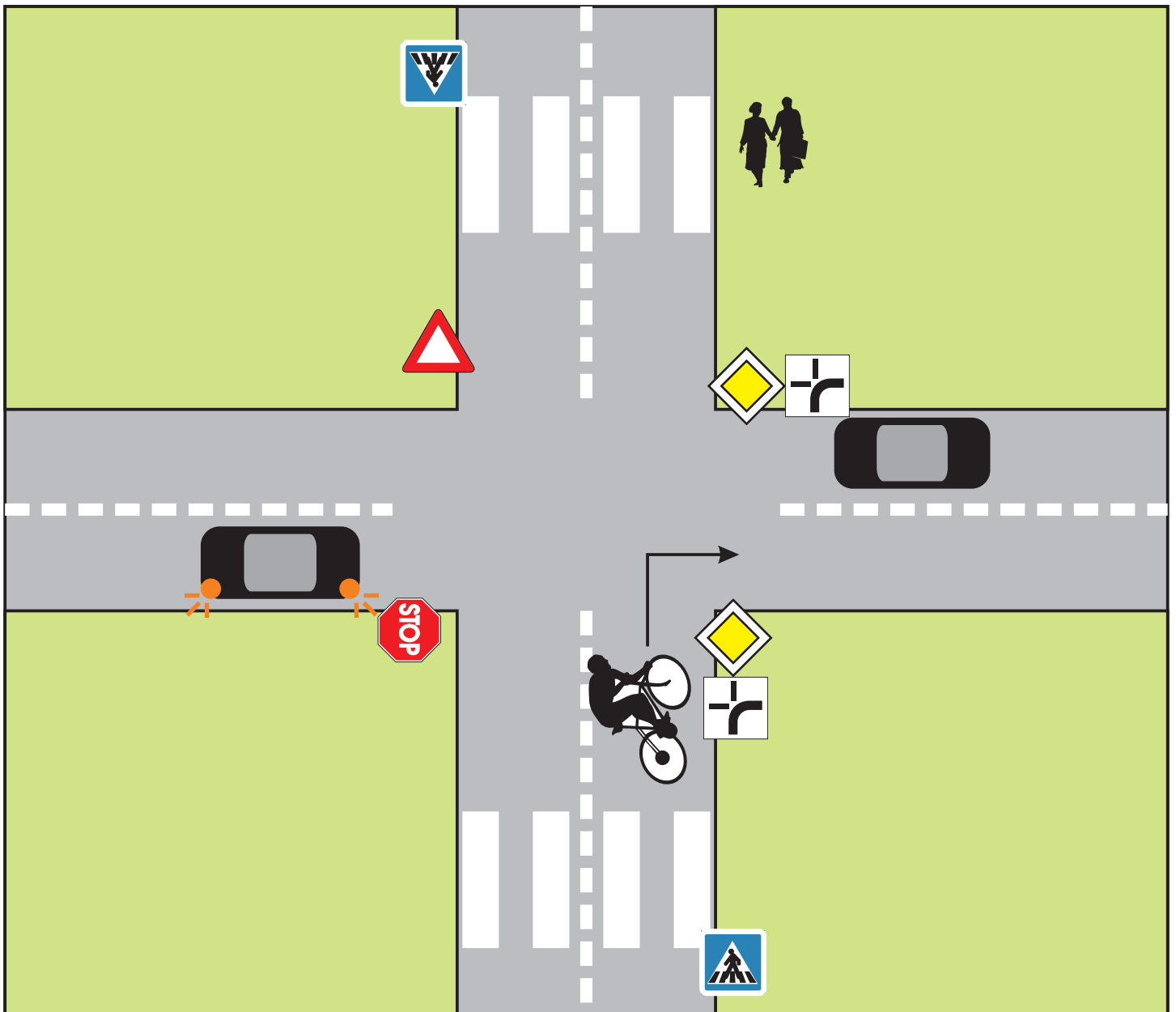




INVESTICE DO ROZVOJE VZDĚLÁVÁNÍ

Tento projekt je spolufinancován Evropským sociálním fondem a státním rozpočtem České republiky.

8. Zorientuj se v dopravní situaci a napiš, **kolikátý** v pořadí pojede **cyklista**.





INVESTICE DO ROZVOJE VZDĚLÁVÁNÍ

Tento projekt je spolufinancován Evropským sociálním fondem a státním rozpočtem České republiky.

Literatura a zdroje obrázků

KOLEKTIV AUTORŮ, Občanská výchova pro 6.ročník ZŠ a víceletá gymnázia. 1. vyd. Olomouc: Nakladatelství Olomouc, 1997. 143 s. ISBN 80-7182-036-9

KOLEKTIV AUTORŮ. Občanská výchova 6 s blokem Rodinná výchova: učebnice pro základní školy a víceletá gymnázia. 1. vyd. Plzeň: Fraus, 2003. 136s. ISBN 80-7238-207-1

Názvy svislého dopravního značení

<http://www.midos-cheb.cz/dopravni-znaceni/svisle-dopravni-znaceni/dopravni-znacky>

staženo: 30.1.2013

Neoznačené obrázky - Clipart pro Corel 8 a jejich modifikace



INVESTICE DO ROZVOJE VZDĚLÁVÁNÍ

Tento projekt je spolufinancován Evropským sociálním fondem a státním rozpočtem České republiky.

ŘEŠENÍ TESTU

1

- A 2
- B 6
- C 3
- D 5

2

- A 1
- B 4

3 C

4 A C F

5 A

6 B

7 cyklista (semafor má přednost před značkami)

8 první (společně s automobilem přijíždějícím po hlavní silnici)